

کد کنترل

291

E



291E

دفترچه شماره (1)

صبح جمعه

۹۸/۱۲/۹



جمهوری اسلامی ایران  
وزارت علوم، تحقیقات و فناوری  
سازمان سنجش آموزش کشور

«اگر دانشگاه اصلاح شود مملکت اصلاح می‌شود.»  
امام خمینی (ره)

آزمون ورودی دوره دکتری (نیمه‌متمرکز) - سال ۱۳۹۹

رشته مهندسی عمران - زلزله - کد (۲۳۰۸)

مدت پاسخ‌گویی: ۱۵۰ دقیقه

تعداد سؤال: ۴۵

عنوان مواد امتحانی، تعداد و شماره سؤالات

ردیف	مواد امتحانی	تعداد سؤال	از شماره	تا شماره
۱	مجموعه دروس تخصصی: مکانیک جامدات (مقاومت مصالح - تحلیل سازه‌ها) - دینامیک سازه - دینامیک خاک	۴۵	۱	۴۵

این آزمون نمره منفی دارد.

استفاده از ماشین حساب مجاز نیست.

حق چاپ، تکثیر و انتشار سؤالات به هر روش (الکترونیکی و...) پس از برگزاری آزمون، برای تمامی اشخاص حقیقی و حقوقی تنها با مجوز این سازمان مجاز می‌باشد و یا متخلفین برابر مقررات رفتار می‌شود.

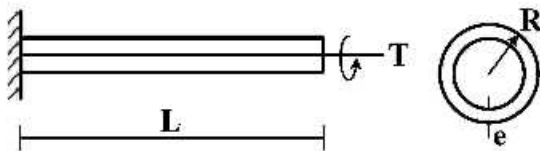
۱۳۹۹

\* داوطلب گرامی، عدم درج مشخصات و امضا در مندرجات جدول ذیل، به منزله عدم حضور شما در جلسه آزمون است.

اینجانب ..... با شماره داوطلبی ..... با آگاهی کامل، یکسان بودن شماره صندلی خود را با شماره داوطلبی مندرج در بالای کارت ورود به جلسه، بالای پاسخنامه و دفترچه سؤالات، نوع و کد کنترل درج شده بر روی دفترچه سؤالات و پائین پاسخنامه‌ام را تأیید می‌نمایم.

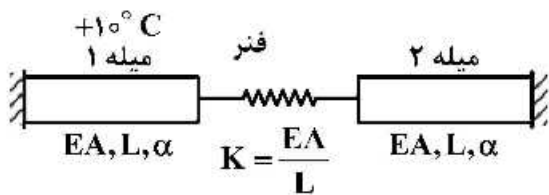
امضا:

۱- تیر طره‌ای به طول  $L$  با مقطع لوله‌ای شکل به شعاع  $R$  و ضخامت جدار  $e$  تحت اثر لنگر پیچشی  $T$  در انتهای تیر قرار دارد. تنش برشی و آهنگ دوران  $(\frac{d\phi}{dx})$  مقطع به ترتیب کدام است؟



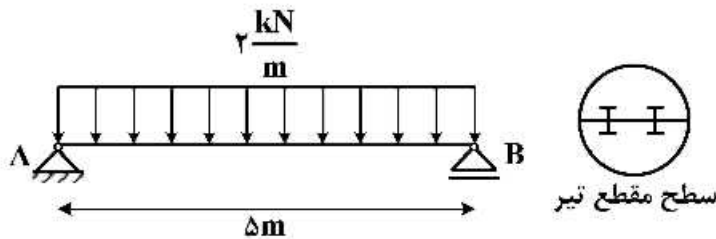
- (۱)  $\frac{T}{2\pi GR^2 e}, \frac{T}{2\pi R^2 e}$
- (۲)  $\frac{3T}{2\pi G R e^3}, \frac{T}{2\pi R^2 e}$
- (۳)  $\frac{3T}{2\pi G R e^3}, \frac{3T}{2\pi R e^2}$
- (۴)  $\frac{T}{2\pi GR^2 e}, \frac{3T}{2\pi G R e^3}$

۲- در سیستم میله‌های زیر میله ۱ به اندازه  $+10^\circ C$  افزایش دما داده می‌شود. نیروی میله ۲ کدام است؟ ( $\alpha$ : ضریب انبساط حرارتی میله‌ها)



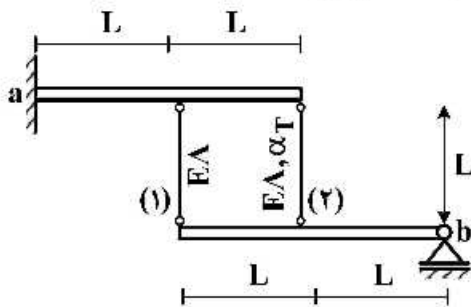
- (۱) صفر
- (۲)  $-10\alpha EA$
- (۳)  $\frac{-10\alpha EA}{3}$
- (۴)  $-\frac{20\alpha EA}{3}$

۳- تیر AB به طول  $\Delta m$  تحت بار گسترده یکنواخت  $\frac{2}{m} \text{ kN}$  قرار دارد. این تیر از اتصال دو تیر با سطح مقطع نیم دایره‌ای به شعاع  $r$  تشکیل شده است. اگر برای اتصال دو قطعه نیم دایره‌ای از پیچ‌هایی به قطر  $10 \text{ mm}$  و با تنش برشی مجاز  $50 \text{ MPa}$  استفاده شده باشد، فاصله مورد نیاز بین پیچ‌ها در طول تیر چقدر است؟



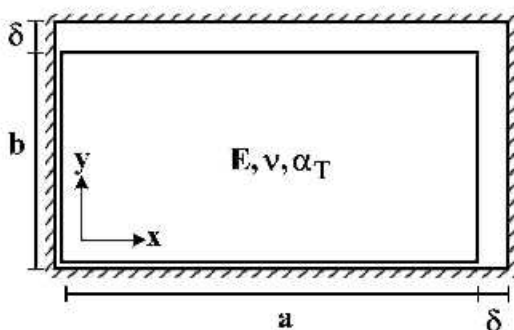
- (۱)  $\frac{200}{3\pi r}$
- (۲)  $\frac{400}{3\pi r}$
- (۳)  $\frac{600}{3\pi r}$
- (۴)  $\frac{800}{3\pi r}$

۴- دو تیر صلب، مطابق شکل توسط دو میله الاستیک با مشخصات  $E$ ،  $A$  و  $\alpha_T$  به هم متصل هستند. تیر فوقانی در تکیه‌گاه  $a$  به صورت گیردار و تیر تحتانی در تکیه‌گاه  $b$  به صورت مفصلی هستند. میله شماره (۲) به مقدار  $\Delta T$  گرم می‌شود. نیروی داخلی میله شماره (۱) کدام است؟ ( $\alpha_T$ : ضریب انبساط حرارتی)



- (۱)  $-\frac{2}{3} E A \alpha_T \Delta T$
- (۲)  $-\frac{2}{5} E A \alpha_T \Delta T$
- (۳)  $\frac{2}{3} E A \alpha_T \Delta T$
- (۴)  $\frac{2}{5} E A \alpha_T \Delta T$

۵- یک المان مستطیلی با ابعاد  $a \times b$  که  $a > b$  است در داخل یک محفظه صلب کمی بزرگ‌تر به شکل مستطیل با ابعاد  $(a + \delta) \times (b + \delta)$  قرار داده شده است ( $\delta \ll b$ ). المان مستطیلی گرم می‌شود، در لحظه بسته شدن شکاف فوقانی، تنش تماسی  $\sigma_x$  کدام است؟ ( $E$ : مدول الاستیسیته،  $\alpha_T$ : ضریب انبساط حرارتی،  $\nu$ : ضریب پواسون)



توجه: تمام سطوح کاملاً صیقلی و بدون اصطکاک هستند.

- (۱)  $-\frac{E}{(1+\nu)} \times \frac{\delta(a-b)}{ab}$
- (۲)  $E \left( \frac{\delta(a+b\nu)}{(1-\nu^2)ab} - \frac{\alpha_T \Delta T}{1-\nu} \right)$
- (۳)  $E \left( \frac{\delta(b+a\nu)}{(1-\nu^2)ab} - \frac{\alpha_T \Delta T}{1-\nu} \right)$

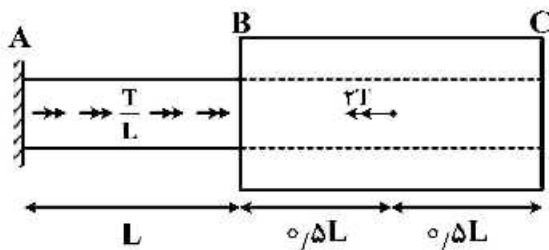
۶- در خصوص معیار ترسکا و معیار فون میسز کدام گزینه صحیح است؟

- (۱) معیار ترسکا بر مبنای تنش برشی ماکزیمم و معیار فون میسز بر مبنای تنش برشی اکتاهدرال است.
- (۲) معیار ترسکا برای مصالح فلزی و معیار فون میسز برای مصالح ترد به کار می رود.
- (۳) برخلاف معیار فون میسز، معیار ترسکا اثر فشار هیدروستاتیک را در نظر می گیرد.
- (۴) تفاوتی ندارند.

۷- میله AB به قطر  $d$  و ثابت پیچش  $J_0$  و میله BC با قطر داخلی  $d$  و قطر خارجی  $2d$  و ثابت پیچش  $15J_0$  در نقطه

B به هم متصل شده اند. میله AB تحت لنگر پیچشی گسترده  $\frac{T}{L} \left( \frac{N \cdot m}{m} \right)$  و میله BC تحت لنگر متمرکز  $2T$  در

نقطه D می باشد. اگر مدول برشی میله ها برابر باشد، زاویه پیچش C کدام است؟



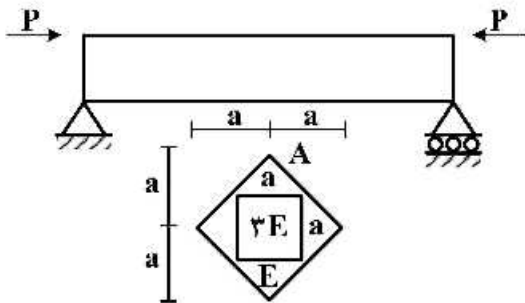
(۱)  $\frac{47}{30} \frac{TL}{GJ_0}$

(۲)  $\frac{43}{30} \frac{TL}{GJ_0}$

(۳)  $\frac{16}{15} \frac{TL}{GJ_0}$

(۴)  $\frac{14}{16} \frac{TL}{GJ_0}$

۸- حداکثر تنش عمودی در تیر با مقطع غیر همگن داده شده کدام است؟ (محل اعمال بار در نقطه A از مقطع می باشد)



(۱)  $\frac{5}{2} \frac{P}{a^2}$

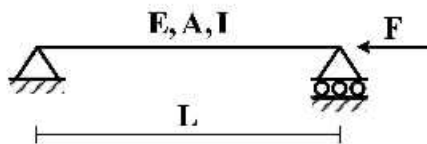
(۲)  $\frac{5}{4} \frac{P}{a^2}$

(۳)  $\frac{15}{2} \frac{P}{a^2}$

(۴)  $\frac{15}{4} \frac{P}{a^2}$

۹- تیر ساده ای به طول  $L$ ، سطح مقطع  $A$ ، لنگر دوم سطح  $I$  و مدول الاستیسیته  $E$  مطابق شکل تحت اثر نیروی

محوری  $F$  قرار گرفته است. منحنی الاستیک تیر ( $y$ ) از کدام یک از معادلات زیر به دست می آید؟



(۱)  $Ely'' = 0$

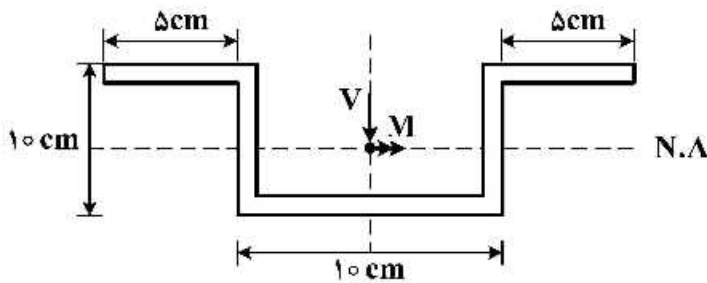
(۲)  $Ely'' = -Fy$

(۳)  $Ely'' - Fy = 0$

(۴)  $Ely'' = \frac{FL}{4}$

۱۰- در مقطع زیر نسبت تنش خمشی حداکثر به تنش برشی حداکثر بر حسب  $M$  و  $V$  که به ترتیب لنگر و برش وارد بر

مقطع می‌باشد، چقدر است؟ (کلیه ضخامت‌ها  $1\text{ cm}$  است)  $\frac{\sigma_{\max}}{\tau_{\max}} = ?$



(۱)  $\frac{5 M}{31 V}$

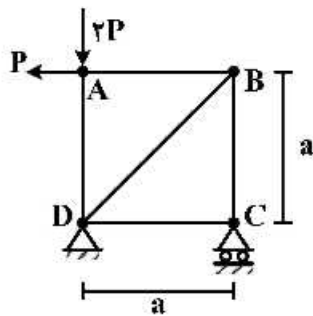
(۲)  $\frac{5 M}{61 V}$

(۳)  $\frac{10 M}{31 V}$

(۴)  $\frac{10 M}{61 V}$

۱۱- در خرابی نشان داده شده در شکل، با فرض یکسان بودن جنس و مقطع کلیه اعضا، میزان دوران عضو  $AB$

کدام است؟ ( $EA$  صلبیت محوری اعضا)



(۱)  $\frac{P}{EA}$

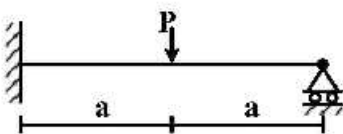
(۲)  $\frac{P\sqrt{2}}{EA}$

(۳)  $\frac{2P}{EA}$

(۴)  $\frac{2P}{EA}$

۱۲- برای تحلیل تیر نامعین زیر به روش نرمی، با فرض وجود یک اتصال مفصلی در نقطه محل اثر بار متمرکز، سازه

اولیه مورد نیاز را می‌سازیم. ضریب نرمی مربوط به این سازه اولیه کدام است؟ (صلبیت خمشی تیر  $= EI$ )



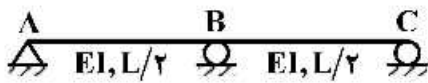
(۱)  $\frac{a}{EI}$

(۲)  $\frac{a^2}{3EI}$

(۳)  $\frac{4a}{3EI}$

(۴)  $\frac{8a^2}{3EI}$

۱۳- در سازه نشان داده شده در صورتی که تکیه‌گاه C به اندازه  $\Delta$  و تکیه‌گاه B به اندازه  $1/25\Delta$  نشست داشته باشند. عکس‌العمل تکیه‌گاهی B کدام است؟



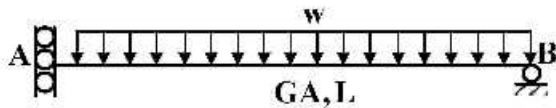
(۱)  $\frac{72EI\Delta}{L^3}$

(۲)  $\frac{36EI\Delta}{L^3}$

(۳)  $\frac{18EI\Delta}{L^3}$

(۴)  $\frac{9EI\Delta}{L^3}$

۱۴- در تیر شکل زیر که مقطع آن به صورت I شکل است، تغییر مکان قائم تکیه‌گاه A تحت اثر تغییر شکل‌های برشی کدام است؟ ( $\alpha_s = 1$ )



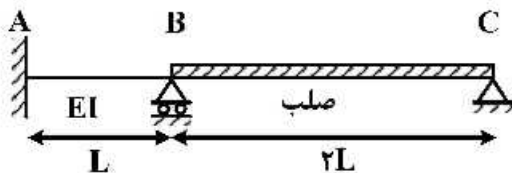
(۱) صفر

(۲)  $\frac{wL^3}{GA}$

(۳)  $\frac{wL^3}{2GA}$

(۴)  $\frac{wL^3}{4GA}$

۱۵- لنگر تکیه‌گاه A در اثر نشست تکیه‌گاه B به اندازه  $\delta$  چقدر است؟



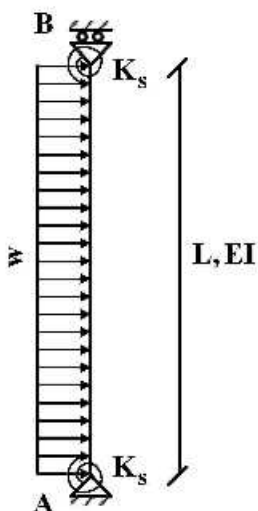
(۱)  $\frac{7EI\delta}{L^2}$

(۲)  $\frac{5EI\delta}{L^2}$

(۳)  $\frac{3EI\delta}{L^2}$

(۴)  $\frac{EI\delta}{L^2}$

۱۶- تغییر مکان جانبی تکیه‌گاه B چقدر است؟ ( $K_s = \frac{7EI}{L}$ )



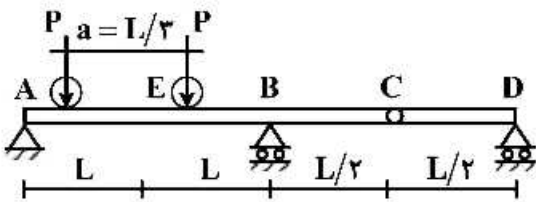
(۱)  $\frac{wL^4}{6EI}$

(۲)  $\frac{wL^4}{8EI}$

(۳)  $\frac{wL^4}{12EI}$

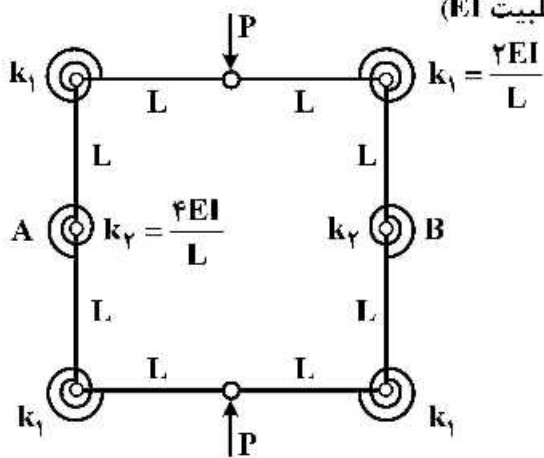
(۴)  $\frac{wL^4}{16EI}$

۱۷- تیر یکنواختی مطابق شکل زیر تحت تأثیر دو بار متحرک P که به فاصله a از یکدیگر در حرکت هستند قرار می گیرد. بیشینه مقدار لنگر خمشی در مقطع E کدام است؟



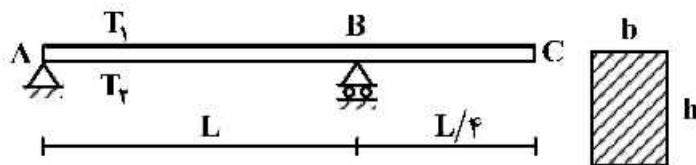
- (۱)  $\frac{PL}{2}$
- (۲)  $\frac{4}{3}PL$
- (۳)  $\frac{5}{3}PL$
- (۴)  $\frac{5}{6}PL$

۱۸- تغییر فاصله نقاط A و B چقدر است؟ (طول تمام اعضاء L با صلبیت EI)



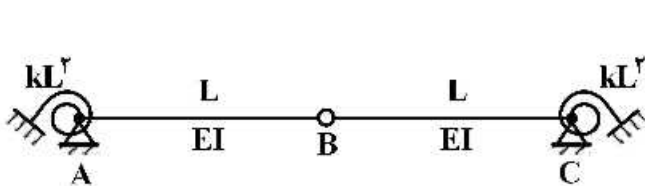
- (۱)  $\frac{3}{8} \frac{PL^2}{EI}$
- (۲)  $\frac{3}{16} \frac{PL^2}{EI}$
- (۳)  $\frac{5}{8} \frac{PL^2}{EI}$
- (۴)  $\frac{5}{16} \frac{PL^2}{EI}$

۱۹- تیری مطابق شکل تحت تأثیر تغییرات دمای محیط قرار دارد. اگر عرض مقطع تیر b و ارتفاع مقطع h باشد و دمای بالا و پایین تیر به ترتیب  $T_1$  و  $T_2$  در نظر گرفته شود ( $T_2 > T_1$ ) تغییر مکان نقطه C از تیر در اثر تغییرات دما کدام است؟ (ضریب انبساط حرارتی را  $\alpha$  در نظر بگیرید.)



- (۱)  $\frac{5}{32h} \alpha L^2 (T_2 - T_1) \downarrow$
- (۲)  $\frac{5}{16h} \alpha L^2 (T_2 - T_1) \uparrow$
- (۳)  $\frac{5}{16h} \alpha L^2 (T_2 - T_1) \downarrow$
- (۴)  $\frac{5}{8h} \alpha L^2 (T_2 - T_1) \uparrow$

۲۰- مساحت زیر نمودار خط تأثیر لنگر فخر دورانی A کدام است؟ (سختی فنرهای دورانی برابر  $kL^2$  می باشد)

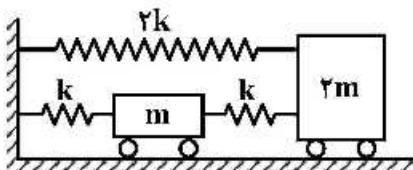


- (۱)  $\frac{L^2}{4}$
- (۲)  $\frac{L^2}{2}$
- (۳)  $L^2$
- (۴)  $2L^2$

۲۱- کدام گزینه در مورد فرکانس‌های یک سازه پایدار صحیح است؟

- ۱) فرکانس‌ها بسته به توزیع جرم و سختی و وجود نامنظمی در ساختمان ممکن است حقیقی یا مختلط باشند و فرکانس‌ها در مودهای ارتعاشی بالاتر نسبت به مود غالب کمتر است.
- ۲) فرکانس‌ها بسته به توزیع جرم و سختی و وجود نامنظمی در ساختمان ممکن است حقیقی یا مختلط باشند و فرکانس‌ها در مودهای ارتعاشی بالاتر نسبت به مود غالب بیشتر است.
- ۳) فرکانس‌ها همواره عدد حقیقی بوده و در مودهای ارتعاشی بالاتر در مقایسه با مود غالب سازه کمتر است.
- ۴) فرکانس‌ها همواره عدد حقیقی بوده و در مودهای ارتعاشی بالاتر در مقایسه با مود غالب سازه بیشتر است.

۲۲- فرکانس‌های مود اول و مود دوم سیستم دینامیکی نمایش داده شده چقدر است؟



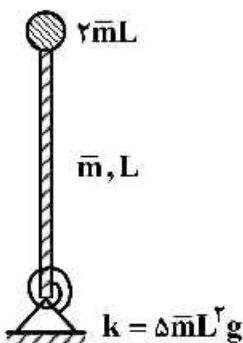
- ۱)  $\sqrt{\frac{k}{m}}$  ،  $\sqrt{\frac{\Delta k}{m}}$
- ۲)  $\sqrt{\frac{k}{m}}$  ،  $\sqrt{\frac{\Delta k}{2m}}$
- ۳)  $\sqrt{\frac{2k}{m}}$  ،  $\sqrt{\frac{3k}{2m}}$
- ۴)  $\sqrt{\frac{2k}{m}}$  ،  $\sqrt{\frac{\Delta k}{m}}$

۲۳- یک سیستم یک درجه آزادی تحت اثر بار هارمونیک  $P(t) = P_0 \sin \Omega t$  قرار گرفته است. کدام یک از عبارات زیر در مورد ضریب بزرگ‌نمایی دینامیکی پاسخ پایدار درست است؟

- ۱) در یک سیستم میرا، اگر بار به آرامی تغییر کند، این ضریب به سمت واحد میل می‌کند.
  - ۲) در یک سیستم میرا، زمانی که نسبت فرکانسی برابر واحد باشد، این ضریب به بی‌نهایت میل می‌کند.
  - ۳) در یک سیستم میرا، این ضریب همواره به ازای جمیع مقادیر نسبت فرکانسی از یک بزرگ‌تر است.
  - ۴) در یک سیستم میرا، در صورتی که بار هارمونیک سریع تغییر کند، این ضریب به بی‌نهایت میل می‌کند.
- ۲۴- در کدام سیستم جابه‌جایی نهایی سازه تک درجه آزادی (پس از مدت طولانی) تحت ارتعاش آزاد الزاماً صفر است؟

- ۱) با سختی غیرخطی
- ۲) با میرایی کولمب
- ۳) با میرایی ویسکوز
- ۴) نامیرا

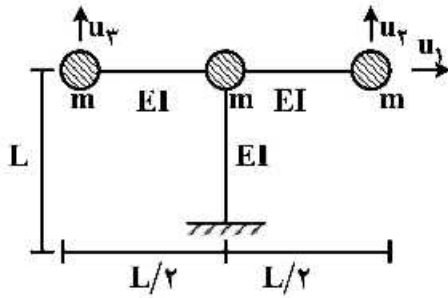
۲۵- فرکانس زاویه‌ای طبیعی سازه زیر چقدر است؟ ( $\bar{m}$  جرم واحد طول میله است و میله صلب فرض شده است).



- ۱)  $\sqrt{\frac{24}{25} \frac{g}{L}}$
- ۲)  $\sqrt{\frac{15}{14} \frac{g}{L}}$
- ۳)  $\sqrt{\frac{6}{7} \frac{g}{L}}$
- ۴)  $\sqrt{\frac{6}{5} \frac{g}{L}}$



۲۶- سازه سه درجه آزادی مطابق شکل زیر را در نظر بگیرید. کدام گزینه می‌تواند یکی از بردارهای مربوط به شکل مود ارتعاشی سازه باشد؟ (از تغییر شکل محوری اعضا صرف نظر شده است).



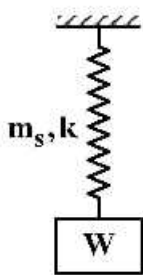
$$\begin{bmatrix} 1 \\ 2 \\ 2 \end{bmatrix} \quad (۲)$$

$$\begin{bmatrix} 2 \\ 1 \\ 1 \end{bmatrix} \quad (۴)$$

$$\begin{bmatrix} 0 \\ 2 \\ 2 \end{bmatrix} \quad (۱)$$

$$\begin{bmatrix} 1 \\ 2 \\ 4 \end{bmatrix} \quad (۳)$$

۲۷- در سیستم زیر اگر جرم فنر  $m_s$  باشد، فرکانس زاویه‌ای طبیعی سیستم چقدر است؟ ( $\omega_n = ?$ )



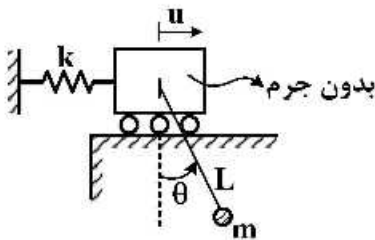
$$\sqrt{\frac{k}{\frac{W}{g} + \frac{1}{2}m_s}} \quad (۲)$$

$$\sqrt{\frac{k}{\frac{W}{g} + \frac{1}{12}m_s}} \quad (۴)$$

$$\sqrt{\frac{k}{\frac{W}{g} + m_s}} \quad (۱)$$

$$\sqrt{\frac{k}{\frac{W}{g} + \frac{1}{3}m_s}} \quad (۳)$$

۲۸- جرم  $m$  با کابلی به طول  $L$  مطابق شکل به سیستم در نظر گرفته شده متصل است. می‌دانیم که کابل خاصیت ارتجاعی ندارد. فرکانس طبیعی سیستم در ارتعاش آزاد کدام است؟



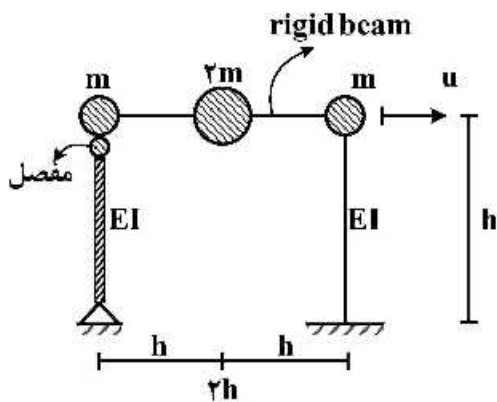
$$\sqrt{\frac{g}{L + \frac{mg}{3k}}} \quad (۲)$$

$$\sqrt{\frac{g}{\frac{2L}{3} + \frac{mg}{k}}} \quad (۴)$$

$$\sqrt{\frac{g}{L + \frac{mg}{k}}} \quad (۱)$$

$$\sqrt{\frac{g}{\frac{L}{3} + \frac{mg}{k}}} \quad (۳)$$

۲۹- زمان تناوب مود اول قاب نمایش داده شده کدام است؟



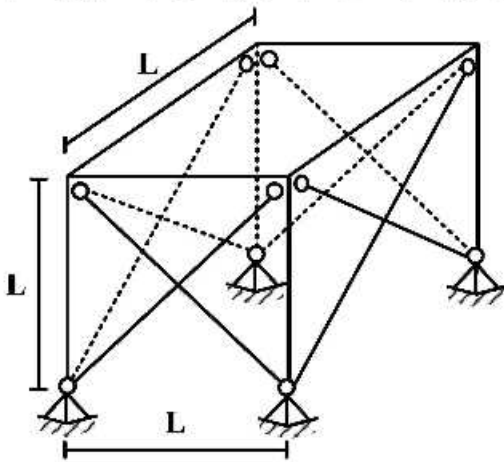
$$2\pi\sqrt{\frac{mh^3}{3EI}} \quad (۱)$$

$$2\pi\sqrt{\frac{4mh^3}{3EI}} \quad (۲)$$

$$2\pi\sqrt{\frac{mh^3}{6EI}} \quad (۳)$$

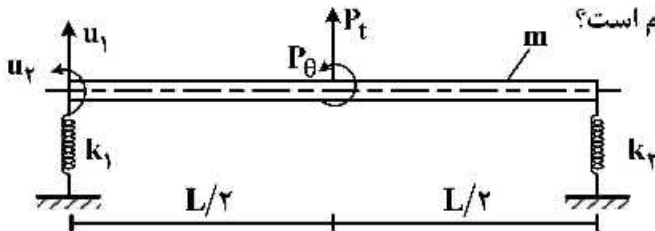
$$2\pi\sqrt{\frac{4mh^3}{15EI}} \quad (۴)$$

۳۰- فرکانس ساختمان یک طبقه برشی زیر که در دو امتداد دارای بادبند می باشد، کدام است؟ سطح مقطع بادبندها (هر بادبند) برابر  $\Lambda$  بوده و از سختی ستون ها در تحمل نیروهای جانبی صرف نظر شود. جرم کل طبقه برابر  $m$  و مدول الاستیسیته مصالح برابر با  $E$  می باشد.



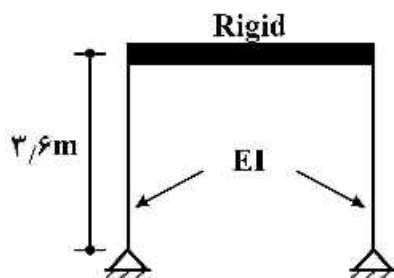
- (۱)  $\sqrt{\frac{AE}{\sqrt{2}mL}}$
- (۲)  $\sqrt{\frac{\sqrt{2}\Lambda E}{mL}}$
- (۳)  $\sqrt{\frac{2\Lambda E}{mL}}$
- (۴)  $\sqrt{\frac{2\sqrt{2}\Lambda E}{mL}}$

۳۱- یک میله صلب یکنواخت به جرم کل  $m$  در دو انتها توسط دو فنر به سختی های  $k_1$  و  $k_2$  نگهداری می شود و تحت اثر نیروی دینامیکی مطابق شکل قرار دارد. میله طوری مقید شده است که در امتداد قائم فقط در صفحه قائم می تواند حرکت نماید. ماتریس جرم این سیستم کدام است؟



- (۱)  $\begin{bmatrix} m & mL \\ mL & \frac{mL^2}{12} \end{bmatrix}$
- (۲)  $\begin{bmatrix} m & \frac{mL}{2} \\ \frac{mL}{2} & \frac{mL^2}{12} \end{bmatrix}$
- (۳)  $\begin{bmatrix} m & mL \\ mL & \frac{mL^2}{3} \end{bmatrix}$
- (۴)  $\begin{bmatrix} m & \frac{mL}{2} \\ \frac{mL}{2} & \frac{mL^2}{3} \end{bmatrix}$

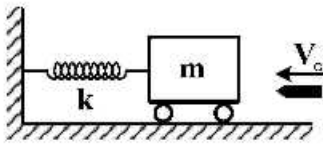
۳۲- یک ساختمان یک طبقه دارای پیرو د ۰/۴s می باشد. این قاب تحت اثر بار ضربه ای مستطیلی با مقدار ۱/۵ton و با مدت زمان اثر ۰/۱s قرار می گیرد. اگر ضریب بزرگ نمایی دینامیکی برای بار ضربه ای داده شده برابر  $R_d = \sqrt{2}$  باشد، مقدار حداکثر لنگر خمشی ستون چند تن - متر (ton.m) است؟



ستون  $I = 2576 \text{ cm}^4$ ,  $E = 2.1 \times 10^6 \frac{\text{kg}}{\text{cm}^2}$

- (۱) ۱/۰۶
- (۲) ۲/۱۲
- (۳) ۳/۸۲
- (۴) ۷/۶۴

۳۳- جرم قطعه چوبی مطابق شکل، برابر  $m = 48m_0$  و سختی فنر برابر  $k$  می باشد. گلوله ای به وزن  $m_0$  با سرعت  $v_0$  به سوی بلوک شلیک و در بلوک فرو می رود. پاسخ  $u(t)$  بلوک کدام است؟



$$\sqrt{\frac{m_0}{k}} \frac{v_0}{\sqrt{48}} \sin\left(\sqrt{\frac{k}{m_0}} \frac{t}{\sqrt{48}}\right) \quad (1)$$

$$\sqrt{\frac{m_0}{k}} \frac{v_0}{\sqrt{48}} \cos\left(\sqrt{\frac{k}{m_0}} \frac{t}{\sqrt{48}}\right) \quad (2)$$

$$\sqrt{\frac{m_0}{k}} \frac{v_0}{\sqrt{48}} \cos\left(\sqrt{\frac{k}{m_0}} \frac{t}{\sqrt{48}}\right) \quad (3)$$

$$\sqrt{\frac{m_0}{k}} \frac{v_0}{\sqrt{48}} \sin\left(\sqrt{\frac{k}{m_0}} \frac{t}{\sqrt{48}}\right) \quad (4)$$

۳۴- اگر ضریب امپدانس ویژه مصالح دو لایه بزرگتر از یک باشد در اثر برخورد یک موج طولی به فصل مشترک دو لایه:

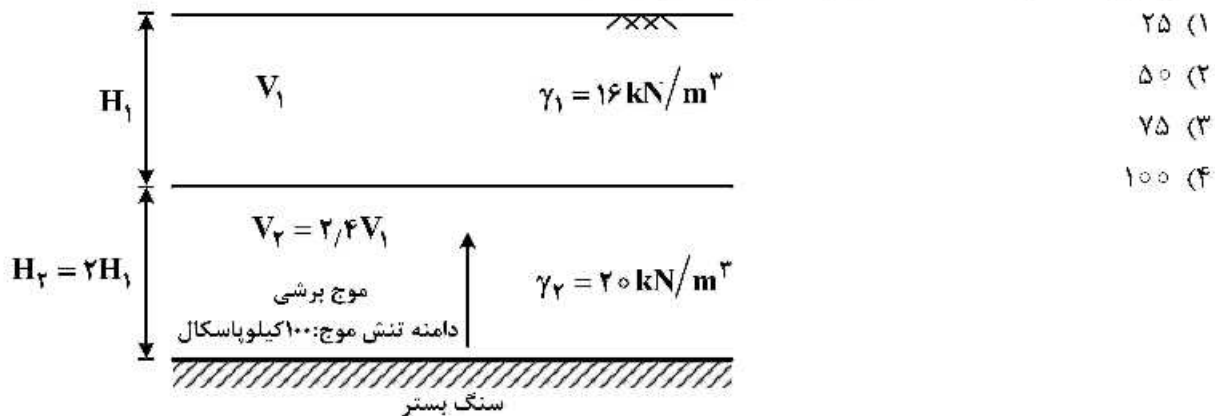
(۱) هم موج انکساری و هم موج انعکاسی تولید خواهد شد لیکن دامنه تنش آن ها یکسان نخواهند بود.

(۲) هم موج انکساری و هم موج انعکاسی تولید خواهد شد و دارای دامنه تنش یکسان خواهند بود.

(۳) هیچ موج انکساری تولید نشده و فقط موج انعکاسی خواهیم داشت.

(۴) هیچ موج انکساری تولید نشده و فقط موج انکساری خواهیم داشت.

۳۵- اگر موجی مطابق شکل از سنگ بستر انتشار یافته و به صورت عمودی به مرز بین دو لایه خاک برخورد کند، دامنه تنش موج منعکس شده (بازگشتی) چند کیلو پاسکال (kPa) است؟



(۱) ۲۵

(۲) ۵۰

(۳) ۷۵

(۴) ۱۰۰

۳۶- در آزمایش بارگذاری صفحه سیکلیک، مدول برشی خاک با جذر کدام عامل متناسب است؟

(۱) تنش مؤثر (۲) نسبت تخلخل (۳) مساحت صفحه (۴) مدول عکس العمل بستر

۳۷- در یک ساختگاه سنگی، شتاب حداکثر زلزله  $0.314g$  و سرعت حداکثر  $10 \frac{cm}{sec}$  اندازه گیری شده است. فرکانس موج هارمونیک معادل زلزله در ساختگاه فوق با فرض  $g = 10 \frac{m}{s^2}$  چند هرتز است؟

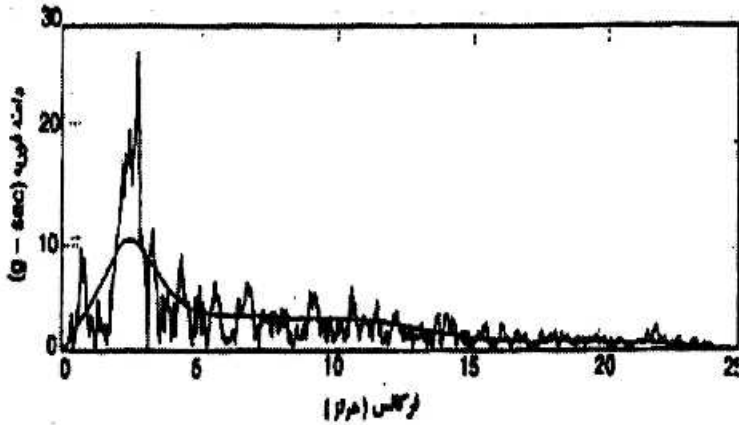
(۱) ۰/۲

(۲) ۱

(۳) ۵

(۴) ۱۰

۳۸- طیف فوری حاصل از یک شتاب نگاشت زلزله در شکل نشان داده شده که یک منحنی هموار شده نیز از آن عبور داده شده است. کدام یک از لایه خاک‌های توصیف شده (H) بر حسب متر (m) و سرعت موج برشی ( $V_s$ ) بر حسب متر بر ثانیه ( $\frac{m}{s}$ ) در برابر وقوع این زلزله به ترتیب واکنش شدیدتری نشان می‌دهد؟

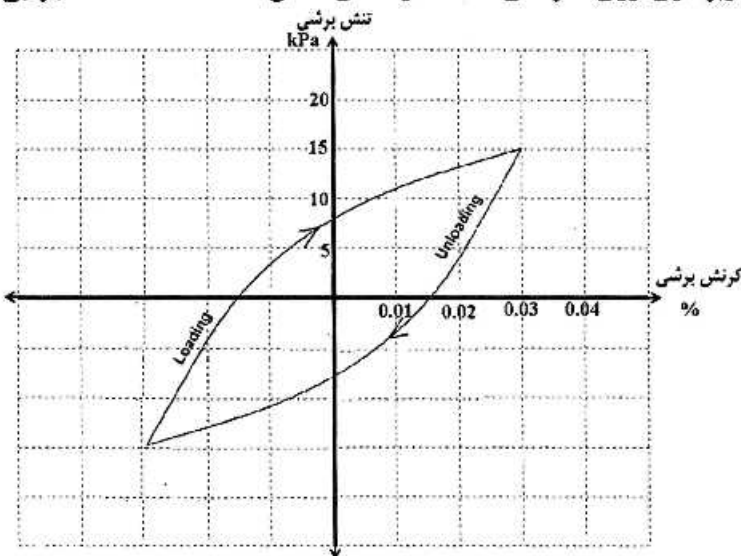


- (۱) ۱۰۰۰, ۱۰۰
- (۲) ۱۰۰۰, ۲۰۰
- (۳) ۱۵۰۰, ۱۰۰
- (۴) ۱۵۰۰, ۲۰۰

۳۹- یک پی ماشین صنعتی با وزن ۹۰ kN بر روی خاکی با سختی  $\frac{kN}{m}$  ۱۰۰۰۰ و میرایی  $\frac{kN \cdot s}{m}$  ۲۰۰ تحت ارتعاش آزاد قرار دارد. کدام یک از گزینه‌های زیر در خصوص میرایی سیستم و نسبت دامنه لگاریتمی بین سیکل‌های اول و سوم به ترتیب صحیح است؟ ( $g = 10 \frac{m}{s^2}$ )

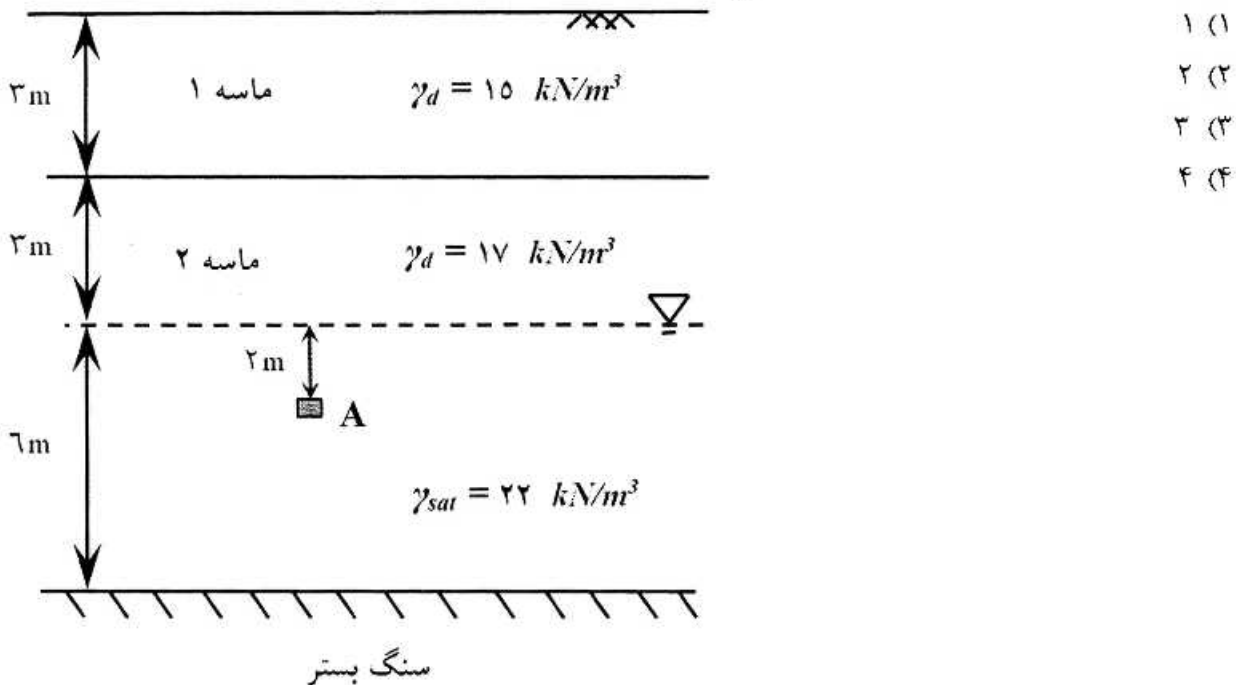
- (۱) سیستم بیش میرا،  $\frac{\pi}{2\sqrt{\lambda}}$
- (۲) سیستم بیش میرا،  $\frac{\pi}{\sqrt{\lambda}}$
- (۳) سیستم کم میرا،  $\frac{2\pi}{\sqrt{\lambda}}$
- (۴) سیستم کم میرا،  $\frac{4\pi}{\sqrt{\lambda}}$

۴۰- حلقه هیستریزس یک سیکل بارگذاری و باربرداری روی نمونه‌ای خاک در شکل نشان داده شده است. میرایی خاک چند درصد است؟



- (۱) ۸
- (۲) ۱۳
- (۳) ۱۸
- (۴) ۲۳

- ۴۱- پروفیل خاک نشان داده شده تحت زلزله‌ای به بزرگای  $7/5$  و شتاب حداکثر سطح  $a_{max} = 0.25g$  قرار می‌گیرد. اگر نسبت مقاومت سیکلی خاک در نقطه A برابر با  $0.38$  باشد، ضریب اطمینان در برابر روانگرایی کدام است؟ ضریب کاهش  $r_d$  را برابر با ۱ فرض کنید.  $(\gamma_w = 10 \frac{kN}{m^3})$



- ۴۲- یک بلوک مکعب سنگی به ابعاد ۲ متر و جرم مخصوص  $2/5$  تن بر متر مکعب تحت تأثیر نیروی دینامیکی نامتعادلی برابر با ۲۰۰ کیلو نیوتن قرار می‌گیرد. شتاب حرکت این بلوک معادل چند گال است؟
- (۱) ۵۰۰  
(۲) ۱۰۰۰  
(۳) ۱۵۰۰  
(۴) ۲۰۰۰

- ۴۳- دیوار ساحلی اسکله‌ای به ارتفاع کل  $12/5$  متر که ۱۰ متر آن در زیر سطح آب قرار دارد تحت تأثیر زلزله‌ای با شتاب افقی  $0.35g$  قرار می‌گیرد. نیروی هیدرودینامیکی منفذی، تولید شده در اثر زلزله، در پشت دیوار به ازای واحد طول دیوار چند کیلو نیوتن بر متر  $(\frac{kN}{m})$  است؟

- (۱) ۱۸۰  
(۲) ۱۶۵  
(۳) ۱۴۰  
(۴) ۱۲۵

۴۴- بررسی‌های ژئوتکنیکی منطقه‌ای مشخص کرده است که یک لایه رس تحکیم‌یافته بر روی سنگ بستری تقریباً افقی قرار دارد. آزمایش انعکاس لرزه‌ای نشان می‌دهد که زمان رسیدن امواج P به یک ژئوفن ۱۰۰ میلی ثانیه و ۴۰۰ میلی ثانیه پس از اعمال یک بار مولد امواج تنش در نقطه‌ای به فاصله ۱۵۰ متری از ژئوفن می‌باشد. سرعت حرکت موج P در لایه رسی (برحسب متر بر ثانیه) و ضخامت لایه رسی (برحسب متر) به ترتیب کدام است؟

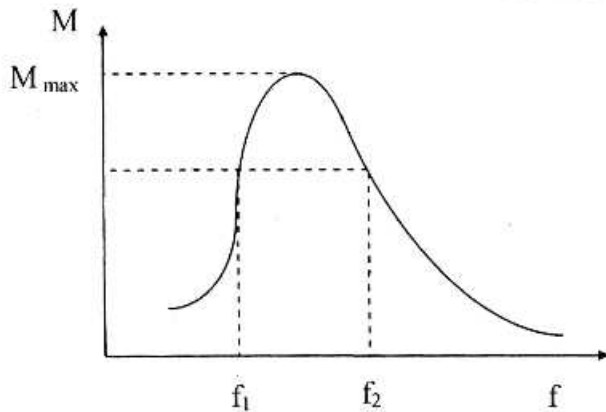
(۱) ۲۹۰, ۷۵۰

(۲) ۱۴۵, ۷۵۰

(۳) ۲۹۰, ۱۵۰۰

(۴) ۱۴۵, ۱۵۰۰

۴۵- در شکل نتایج آزمایش ستون تشدید به منظور ارزیابی ضریب میرایی در مقادیر به حد کافی کوچک نشان داده شده است. اگر  $f_1 = ۳/۶\text{Hz}$  و  $f_p = ۳/۹\text{Hz}$  و فرکانس متناظر با تشدید  $f_n = ۳/۷۵\text{Hz}$  باشد، نسبت میرایی نمونه خاک چند درصد است؟



(۱) ۲

(۲) ۴

(۳) ۵

(۴) ۱۰







گروه امتحانی	شماره پاسخنامه	نوع دفترچه	عنوان دفترچه
مهندسی و فنی	1	E	مهندسی عمران - زلزله

شماره سوال	گزینه صحیح	شماره سوال	گزینه صحیح
1	1	31	4
2	3	32	3
3	2	33	4
4	4	34	1
5	2	35	2
6	1	36	3
7	1	37	3
8	4	38	1
9	2	39	4
10	4	40	4
11	4	41	2
12	3	42	2
13	2	43	3
14	3	44	3
15	2	45	2
16	1		
17	4		
18	3		
19	1		
20	2		
21	4		
22	2		
23	1		
24	3		
25	2		
26	1		
27	3		
28	1		
29	1		
30	2		